















# Triangle isocèle

	Placer 2 points A et B. Attention $[AB] < 10$ cm.
	Tracer le segment $[AB]$ .
	Tracer un cercle rouge de centre A et de rayon 5 cm.
	Tracer un cercle rouge de centre B et de rayon 5 cm.
	Placer les points C et D aux intersections des 2 cercles.
	Tracer $[AC]$ et $[BC]$
	Tracer $[AD]$ et $[BD]$

Que peux-tu dire des triangles ABC et ABD. Justifie ta réponse.

# Triangle isocèle

	Placer 2 points A et B. Attention $[AB] < 10$ cm.
	Tracer le segment $[AB]$ .
	Tracer un cercle rouge de centre A et de rayon 5 cm.
	Tracer un cercle rouge de centre B et de rayon 5 cm.
	Placer les points C et D aux intersections des 2 cercles.
	Tracer $[AC]$ et $[BC]$
	Tracer $[AD]$ et $[BD]$

Que peux-tu dire des triangles ABC et ABD. Justifie ta réponse.